

**WIRTSCHAFTSWISSENSCHAFTLICHES
PRÜFUNGSSEKRETARIAT**

DER RECHTS- UND WIRTSCHAFTSWISSENSCHAFTLICHEN FAKULTÄT
DER UNIVERSITÄT DES SAARLANDES

Von der/dem Studierenden auszufüllen (Bitte leserlich und in Blockschrift):

Name der Prüfung: Schließende Statistik
Semester, dem die Prüfung zugeordnet ist: SS 2016 (z. B. WS 2015/2016, SS 2016)
(Prüfungen im Februar/April = WS; Prüfungen im August/Oktobre = SS)
Nachname, Vorname der/des Studierenden: _____
Matrikelnummer der/des Studierenden: _____

Erklärung

Hiermit erkläre ich, dass mir die für diese Prüfung relevanten Zulassungsvoraussetzungen aus der für mich geltenden Prüfungsordnung bekannt sind.

Mir ist damit bewusst, dass diese Prüfungsleistung als nicht abgelegt zählt, wenn die hierfür vorgesehenen Zulassungsvoraussetzungen nicht erfüllt sind.

Mir ist bekannt, dass die Teilnahme an der Prüfung zudem die ordnungsgemäße Anmeldung zur Prüfung voraussetzt. Die Teilnahme bei versäumter Anmeldung hat die Ungültigkeit der Prüfung zur Folge.

Zudem ist mir bekannt, dass eine nicht bestandene Prüfung zweimal wiederholt werden kann. Die Wiederholung einer bestandenen Prüfung ist nicht zulässig.

Datum: _____ **Unterschrift der/des Studierenden:** _____

Von der Prüferin/Vom Prüfer auszufüllen:

Aufgabe	Punkte	Max. Punkte	Bemerkungen
1		16	
2		12	
3		4	
4		10	
5		16	
6		18	
7		16	
8		7	
9		21	
<i>Summe</i>		120	

bestanden

Note: _____

nicht bestanden

Unterschrift der Prüferin/des Prüfers: _____

KLAUSURHEFT ZUR
 BACHELOR-PRÜFUNG
 SCHLIESSENDE STATISTIK
 SOMMERSEMESTER 2016

Dr. Martin Becker

Hinweise für die Klausurteilnehmer

- Die Klausur besteht aus insgesamt 9 Aufgaben. Prüfen Sie die Vollständigkeit Ihres Exemplares nach; spätere Reklamationen können nicht berücksichtigt werden.
- Es sind insgesamt 120 Punkte (= 16 + 12 + 4 + 10 + 16 + 18 + 16 + 7 + 21) erreichbar.
- Als Hilfsmittel sind zugelassen: Taschenrechner (auch mit Grafikfähigkeit), 2 selbsterstellte DIN-A4 Blätter bzw. 4 selbsterstellte (einseitige) DIN-A4 Seiten. Benötigte Tabellen zur Normal- und t -Verteilung finden Sie am Ende dieses Klausurheftes.
- Bei der Korrektur werden **nur** die Lösungen auf den Seiten 1–22 berücksichtigt. Das letzte Blatt (Tabellen zur Normal- und t -Verteilung) darf abgetrennt werden.
- Bei mehreren Lösungsvorschlägen muss die gültige Lösung eindeutig gekennzeichnet sein.
- Mit Ausnahme der Multiple-Choice-Aufgaben muss der Lösungsweg klar ersichtlich sein.

Bewertungsteil — Bitte nicht beschreiben								
Aufgabe	(a)	(b)	(c)	(d)	(e)	(f)	(g)	Σ
1		■	■	■	■	■	■	
2		■	■	■	■	■	■	
3		■	■	■	■	■	■	
4				■	■	■	■	
5					■	■	■	
6			■	■	■	■	■	
7		■	■	■	■	■	■	
8								
9						■	■	
Σ								

Aufgabe 1 (16 Punkte)

Markieren Sie jeweils mit einem Kreuz pro Aussage im betreffenden Kästchen, ob die unten stehenden Aussagen wahr oder falsch sind.

Richtige Antworten geben 2 Punkte, falsche Antworten und nicht bearbeitete Aussagen 0 Punkte (Aussagen mit zwei Kreuzen zählen als nicht bearbeitet!).

- | | wahr | falsch |
|--|--------------------------|--------------------------|
| 1. Sei X_1, \dots, X_n eine einfache Stichprobe vom Umfang n zu einer normalverteilten Zufallsvariablen Y . Dann sind auch X_1, \dots, X_n stets normalverteilt. | <input type="checkbox"/> | <input type="checkbox"/> |
| 2. Ist eine Schätzfunktion effizient in einer Klasse erwartungstreuer Schätzfunktionen, so hat keine der Schätzfunktionen in dieser Klasse eine größere Varianz als die effiziente Schätzfunktion selbst. | <input type="checkbox"/> | <input type="checkbox"/> |
| 3. Zur Schätzung des Parameters $\theta \in \mathbb{R}$ seien für $n \in \mathbb{N}$ Schätzfunktionen T_n gegeben mit den Eigenschaften $E(T_n) = \theta$ und $\text{Var}(T_n) = 2 + \frac{2}{n}$ für alle $n \in \mathbb{N}$. Dann ist die Folge T_n von Schätzfunktionen für θ konsistent im quadratischen Mittel. | <input type="checkbox"/> | <input type="checkbox"/> |
| 4. Ist p der p -Wert eines zweiseitigen Chi-Quadrat-Tests für die Varianz einer normalverteilten Zufallsvariablen Y mit der Nullhypothese $\sigma^2 = 4$, so weicht die tatsächliche Varianz der Zufallsvariablen Y (betragsmäßig) um mindestens p von 4 ab. | <input type="checkbox"/> | <input type="checkbox"/> |
| 5. Gilt für den p -Wert bei Anwendung eines statistischen Hypothesentests zum Signifikanzniveau α die Beziehung $p < \alpha$, so ist die Nullhypothese des Tests nur mit einer Wahrscheinlichkeit von p zutreffend. | <input type="checkbox"/> | <input type="checkbox"/> |
| 6. Bei einem rechtsseitigen Gauß-Test von $H_0 : \mu \leq \mu_0$ gegen $H_1 : \mu > \mu_0$ kann die Fehlerwahrscheinlichkeit 2. Art für $\mu > \mu_0$ durch $1 - G(\mu)$ berechnet werden, wobei $G(\mu)$ die Gütefunktion des Tests bezeichnet. | <input type="checkbox"/> | <input type="checkbox"/> |
| 7. Mit der einfachen Varianzanalyse kann unter der Annahme, dass sich die Erwartungswerte in den einzelnen Faktorstufen nicht unterscheiden, überprüft werden, ob auch die Varianzen in den Faktorstufen vollständig übereinstimmen. | <input type="checkbox"/> | <input type="checkbox"/> |
| 8. Im einfachen linearen Regressionsmodell | <input type="checkbox"/> | <input type="checkbox"/> |

$$y_i = \beta_1 + \beta_2 \cdot x_i + u_i, \quad u_i \stackrel{\text{iid}}{\sim} N(0, \sigma^2)$$

sind Prognoseintervalle zur Vertrauenswahrscheinlichkeit $1 - \alpha$ für y_0 stets größer als die entsprechenden Prognoseintervalle für $E(y_0)$.

Aufgabe 2 (12 Punkte)

Markieren Sie jeweils die korrekte Antwort mit einem Kreuz im betreffenden Kästchen. Es ist jeweils genau ein Kreuz korrekt.

Richtige Antworten geben 3 Punkte, falsche Antworten und nicht bearbeitete Aufgabenteile 0 Punkte (Aufgabenteile mit mehr als einem Kreuz zählen als nicht bearbeitet!).

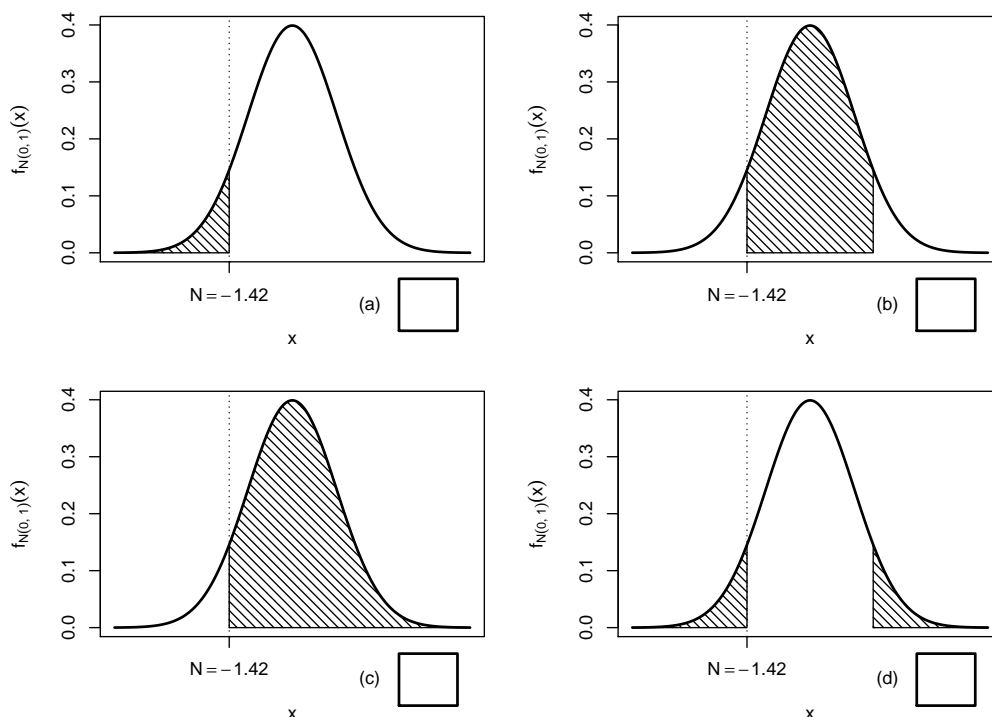
1. Mit einem Chi-Quadrat-Anpassungstest soll anhand einer einfachen Stichprobe vom Umfang $n = 100$ überprüft werden, ob die Grundgesamtheit normalverteilt ist. Nach Wahl einer geeigneten Klassierung aus 5 Klassen werden dazu zunächst die beiden unbekannt Parameter der Normalverteilung durch eine ML-Schätzung aus den klassierten Daten ermittelt. Damit ist zur Konstruktion des Ablehnungsbereiches die folgende Verteilung zu verwenden:

- (a) χ^2 -Verteilung mit 198 Freiheitsgraden
- (b) χ^2 -Verteilung mit 197 Freiheitsgraden
- (c) χ^2 -Verteilung mit 3 Freiheitsgraden
- (d) χ^2 -Verteilung mit 2 Freiheitsgraden

2. Sei X_1, \dots, X_{25} eine einfache Stichprobe zu einer $N(\mu, \sigma_0^2)$ -verteilten Zufallsvariablen Y mit unbekanntem Parameter μ und bekanntem $\sigma_0^2 = 5^2$. Auf der Grundlage einer Stichprobenrealisation zu dieser einfachen Stichprobe vom Umfang $n = 25$ soll

$$H_0 : \mu \leq \mu_0 = 50 \quad \text{gegen} \quad H_1 : \mu > \mu_0 = 50$$

mit einem Gauß-Test getestet werden. Als realisierte Teststatistik erhält man $N = -1.42$. Markieren Sie die Abbildung, welche den p -Wert in der beschriebenen Situation korrekt als Inhalt der schraffierten Fläche unter der Dichtefunktion der Verteilung der Teststatistik unter H_0 (für $\mu = \mu_0$) darstellt.



3. Als p -Wert zur realisierten Teststatistik eines zweiseitigen Gauß-Tests für den Mittelwert einer normalverteilten Grundgesamtheit bei bekannter Varianz erhält man $p = 0.04733$. Dann gilt:

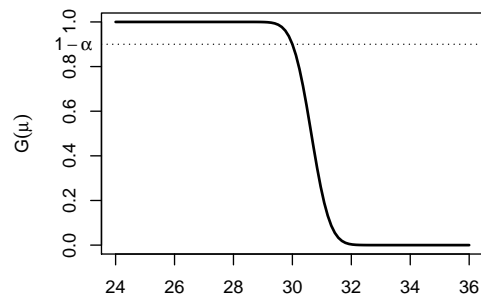
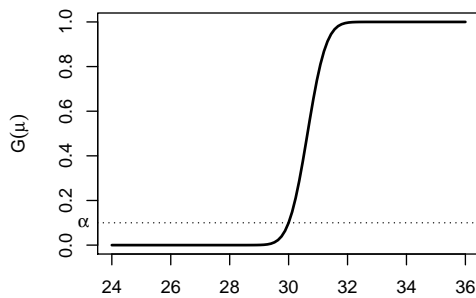
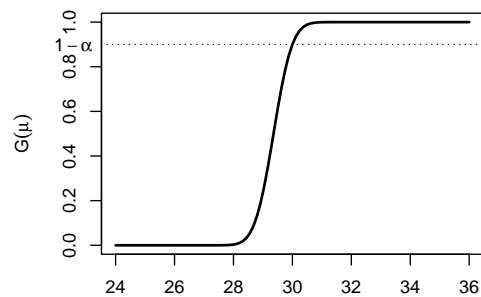
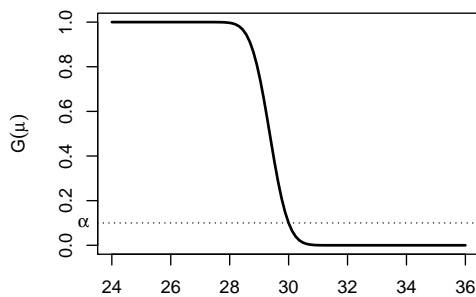
- (a) Die Nullhypothese ist bei einem Test zum Niveau $\alpha = 0.10$ abzulehnen, bei einem Test zum Niveau $\alpha = 0.01$ jedoch nicht abzulehnen.
- (b) Die Nullhypothese ist bei einem Test zum Niveau $\alpha = 0.01$ abzulehnen, bei einem Test zum Niveau $\alpha = 0.10$ jedoch nicht abzulehnen.
- (c) Die Nullhypothese ist sowohl bei einem Test zum Niveau $\alpha = 0.01$ als auch bei einem Test zum Niveau $\alpha = 0.10$ abzulehnen.
- (d) Die Nullhypothese ist weder bei einem Test zum Niveau $\alpha = 0.01$ noch bei einem Test zum Niveau $\alpha = 0.10$ abzulehnen.

4. Auf der Grundlage einer einfachen Stichprobe X_1, \dots, X_{36} vom Umfang $n = 36$ zu einer $N(\mu, 3^2)$ -verteilten Zufallsvariablen wird ein Gauß-Test zur Überprüfung der Hypothesen

$$H_0 : \mu \geq 30 \quad \text{gegen} \quad H_1 : \mu < 30$$

bei einem Signifikanzniveau von $\alpha = 0.1$ betrachtet.

Markieren Sie die Abbildung, welche die Gütefunktion des oben genannten Tests korrekt darstellt.



Aufgabe 3 (4 Punkte)

Für $\lambda > 0$ sei $Y \sim \text{Exp}(\lambda)$, es gilt also insbesondere $E(Y) = \frac{1}{\lambda}$ sowie $\text{Var}(Y) = \frac{1}{\lambda^2}$. X_1, \dots, X_n sei für $n \in \mathbb{N}$ eine einfache Stichprobe vom Umfang n zu Y . Untersuchen Sie, ob die Schätzfunktionen

$$T_n(X_1, \dots, X_n) := \frac{1}{2n} \sum_{i=1}^n X_i^2$$

erwartungstreu für **die Varianz von Y** sind.



Aufgabe 4 (3 + 1 + 6 = 10 Punkte)

Die Verteilung einer Zufallsvariablen Y sei in Abhängigkeit des unbekanntes Parameters $\lambda > 0$ durch die folgende Dichtefunktion gegeben:

$$f_Y(y|\lambda) = \begin{cases} \frac{3}{2} \cdot \lambda^{-\frac{3}{2}} \cdot y^{\frac{1}{2}} & \text{für } 0 \leq y \leq \lambda \\ 0 & \text{sonst} \end{cases}$$

Der Parameter λ soll auf Grundlage einer einfachen Stichprobe X_1, \dots, X_n vom Umfang n geschätzt werden.

- (a) Zeigen Sie, dass $E(Y) = \frac{3}{5} \cdot \lambda$ gilt.
- (b) Bestimmen Sie den Schätzer $\hat{\lambda}_{MM}$ nach der Methode der Momente.
- (c) Bestimmen Sie den Schätzer $\hat{\lambda}_{ML}$ nach der Maximum-Likelihood-Methode.

Hinweise:

- *Beachten Sie, dass Sie die Teile (b) und (c) auch ohne die Bearbeitung von Teil (a) lösen können.*
- *Falls sich der ML-Schätzer als lokale Extremstelle einer differenzierbaren Funktion bestimmen lässt, muss **nicht** überprüft werden (z.B. mit Hilfe der 2. Ableitung), ob tatsächlich eine Maximalstelle vorliegt.*



Aufgabe 5 (7 + 2 + 4 + 3 = 16 Punkte)

Bei der Abfüllung von Kaffee kapseln weiß der Hersteller aus langjähriger Erfahrung, dass die verwendete Maschine eine Standardabweichung von $0.2[g]$ für die abgefüllte Menge hat. Nach einer routinemäßigen Überprüfung hat der Hersteller den Verdacht, dass die Abfüllanlage im Mittel eine andere Menge als die auf dem Produkt ausgezeichneten $7.5[g]$ in die Kapseln einfüllt. Dies soll mit einem statistischen Test überprüft werden. Hierzu werden der Produktion 15 Kapseln entnommen, deren gemessene Füllmengen x_1, \dots, x_{15} als Realisation einer einfachen Stichprobe vom Umfang 15 zur annahmegemäß $N(\mu, 0.2^2[g^2])$ -verteilten Abfüllmenge betrachtet werden können. Als Stichprobenmittelwert ergibt sich dabei

$$\bar{x} = \frac{1}{15} \sum_{i=1}^{15} x_i = 7.369[g] .$$

- (a) Testen Sie zum Signifikanzniveau $\alpha = 0.01$ (!), ob der Verdacht der Herstellerfirma bestätigt werden kann. Fassen Sie das Ergebnis des Tests in einem Antwortsatz zusammen.
- (b) Berechnen Sie den p -Wert zum Test aus Teil (a).
- (c) Wie groß ist die Wahrscheinlichkeit des Fehlers 2. Art zu dem Test aus Teil (a), falls $\mu = 7.45[g]$ beträgt?
- (d) Geben Sie auf Basis der Stichprobenrealisation ein zweiseitiges Konfidenzintervall für die mittlere Abfüllmenge zur Sicherheitswahrscheinlichkeit $1 - \alpha = 0.95$ an.







Aufgabe 6 (10 + 8 = 18 Punkte)


Es werde angenommen, dass die (in Kilometern gemessene) Laufleistung Y^A eines aktuell von einer Autovermietung eingesetzten Reifenmodells normalverteilt sei mit unbekanntem Erwartungswert μ_A und unbekannter Varianz σ_A^2 . Der Autovermieter erwägt, einen Teil der Fahrzeugflotte in Zukunft mit einem alternativen Reifenmodell auszurüsten, dessen Laufleistung Y^B ebenfalls als normalverteilt (mit unbekanntem Erwartungswert μ_B und unbekannter Varianz σ_B^2) angenommen werden kann. Es soll überprüft werden, ob das alternative Modell im Mittel eine höhere Laufleistung als das aktuell verwendete Modell besitzt.

Aus einem Langzeittest mit $n_A = 12$ Reifensätzen des aktuell verwendeten und $n_B = 15$ Sätzen des alternativen Modells erhielt man Realisationen jeweils voneinander unabhängiger einfacher Stichproben X_1^A, \dots, X_{12}^A zu Y^A sowie X_1^B, \dots, X_{15}^B zu Y^B und hieraus die zugehörigen Mittelwerte $\bar{x}^A = 51374$ bzw. $\bar{x}^B = 55882$ sowie die Stichprobenstandardabweichungen $s_{Y^A} = 4763$ bzw. $s_{Y^B} = 5582$.

- (a) Testen Sie unter der Annahme $\sigma_A^2 = \sigma_B^2$ zum Signifikanzniveau $\alpha = 0.05$ die Hypothese, dass das alternative Modell im Mittel eine höhere Laufleistung als das aktuell verwendete Modell besitzt. Fassen Sie das Ergebnis des Tests in einem Antwortsatz zusammen.
- (b) Überprüfen Sie mit einem geeigneten Test zum Signifikanzniveau $\alpha = 0.10$, ob die in Teil (a) getroffene Annahme der Varianzgleichheit auf Grundlage der vorhandenen Stichprobeninformation verworfen werden muss. Fassen Sie das Ergebnis des Tests in einem Antwortsatz zusammen.

Hinweis: Verwenden Sie für Teil (b) den folgenden Tabellenausschnitt mit 0.95-Quantilen von $F(m, n)$ -Verteilungen sowie ggf. die Rechenregel $F_{m,n;p} = \frac{1}{F_{n,m;1-p}}$.

$n \setminus m$	11	12	13	14	15	16	17	18	19	20
11	2.818	2.788	2.761	2.739	2.719	2.701	2.685	2.671	2.658	2.646
12	2.717	2.687	2.660	2.637	2.617	2.599	2.583	2.568	2.555	2.544
13	2.635	2.604	2.577	2.554	2.533	2.515	2.499	2.484	2.471	2.459
14	2.565	2.534	2.507	2.484	2.463	2.445	2.428	2.413	2.400	2.388
15	2.507	2.475	2.448	2.424	2.403	2.385	2.368	2.353	2.340	2.328
16	2.456	2.425	2.397	2.373	2.352	2.333	2.317	2.302	2.288	2.276
17	2.413	2.381	2.353	2.329	2.308	2.289	2.272	2.257	2.243	2.230
18	2.374	2.342	2.314	2.290	2.269	2.250	2.233	2.217	2.203	2.191
19	2.340	2.308	2.280	2.256	2.234	2.215	2.198	2.182	2.168	2.155
20	2.310	2.278	2.250	2.225	2.203	2.184	2.167	2.151	2.137	2.124









Aufgabe 7 (16 Punkte)


Um zu überprüfen, ob es einen Zusammenhang zwischen der Anzahl bearbeiteter Zusatzübungsblätter und dem Abschneiden in der Klausur (bestanden/nicht bestanden) gibt, hat der Dozent einer Statistik-Veranstaltung aus den Korrekturergebnissen der zugehörigen Klausuren aller 230 Teilnehmer die folgende Tabelle zusammengestellt:

	0 Blätter bearbeitet	1 Blatt bearbeitet	2 Blätter bearbeitet
bestanden	98	35	62
nicht bestanden	29	4	2

Überprüfen Sie anhand dieses Datenmaterials zum Signifikanzniveau $\alpha = 0.01$ (!), ob die Anzahl bearbeiteter Zusatzübungsblätter und das Klausurergebnis stochastisch unabhängig sind.

Hinweis: Verwenden Sie den folgenden Tabellenausschnitt mit p -Quantilen von $\chi^2(n)$ -Verteilungen:

$n \backslash p$	0.01	0.025	0.05	0.50	0.90	0.95	0.975	0.99
1	0.000	0.001	0.004	0.455	2.706	3.841	5.024	6.635
2	0.020	0.051	0.103	1.386	4.605	5.991	7.378	9.210
3	0.115	0.216	0.352	2.366	6.251	7.815	9.348	11.345
4	0.297	0.484	0.711	3.357	7.779	9.488	11.143	13.277
5	0.554	0.831	1.145	4.351	9.236	11.070	12.833	15.086
6	0.872	1.237	1.635	5.348	10.645	12.592	14.449	16.812
7	1.239	1.690	2.167	6.346	12.017	14.067	16.013	18.475
8	1.646	2.180	2.733	7.344	13.362	15.507	17.535	20.090
9	2.088	2.700	3.325	8.343	14.684	16.919	19.023	21.666
10	2.558	3.247	3.940	9.342	15.987	18.307	20.483	23.209





Aufgabe 8 (1 + 1 + 1 + 1 + 1 + 1 + 1 = 7 Punkte)

Zur Erklärung des Geburtsgewichts y_i (in Gramm) durch den per Ultraschall gemessenen Bauchdurchmesser des Fötus unmittelbar vor der Geburt x_i (in Millimetern) unterstellt man die Gültigkeit eines Zusammenhangs im Sinne des folgenden linearen Modells:

$$y_i = \beta_1 + \beta_2 x_i + u_i \quad \text{mit} \quad u_i \stackrel{\text{iid}}{\sim} N(0, \sigma^2), \quad i \in \{1, \dots, n\}$$

Aus Daten einer Geburtenstation wurde das lineare Modell mit der Statistik-Software R wie folgt geschätzt:

```
Call:
lm(formula = y ~ x)

Residuals:
    Min       1Q   Median       3Q      Max
-679.17 -224.10  -71.86  119.71 1278.14

Coefficients:
              Estimate Std. Error t value Pr(>|t|)
(Intercept) -2646.19    1676.46  -1.578   0.1489
x              54.78      17.00   3.222   0.0105 *
---
Signif. codes:  0 '***' 0.001 '**' 0.01 '*' 0.05 '.' 0.1 ' ' 1

Residual standard error: 524.9 on 9 degrees of freedom
Multiple R-squared:  0.5357,    Adjusted R-squared:  0.4841
F-statistic: 10.38 on 1 and 9 DF,  p-value: 0.01045
```

- (a) Wie viele Neugeborene gingen in die Schätzung ein?
- (b) Geben Sie die realisierten Kleinst-Quadrate-Schätzwerte für β_1 und β_2 an.
- (c) Geben Sie den realisierten Schätzwert für σ^2 an.
- (d) Welcher Anteil der Gesamtvarianz des Geburtsgewichts wird durch das lineare Modell erklärt?
- (e) Entscheiden Sie mit Hilfe des zugehörigen p -Werts zum Signifikanzniveau $\alpha = 0.10$, ob β_1 signifikant von Null verschieden ist.
- (f) Entscheiden Sie mit Hilfe des zugehörigen p -Werts zum Signifikanzniveau $\alpha = 0.01$, ob β_2 signifikant positiv ist.
- (g) Welches Geburtsgewicht prognostiziert das Modell für einen Fötus mit einem Bauchdurchmesser von 110 (in Millimetern)?





Aufgabe 9 (6 + 2 + 3 + 5 + 5 = 21 Punkte)

Zur Schätzung eines einfachen linearen Regressionsmodells

$$y_i = \beta_1 + \beta_2 \cdot x_i + u_i \quad \text{mit} \quad u_i \stackrel{\text{iid}}{\sim} N(0, \sigma^2), \quad i \in \{1, \dots, n\}$$

aus einer Stichprobe vom Umfang $n = 25$ wurden bereits die folgenden Zwischenwerte errechnet:

$$\sum_{i=1}^{25} y_i = 310.622; \quad \sum_{i=1}^{25} y_i^2 = 4578.739; \quad \sum_{i=1}^{25} x_i = 136.053;$$

$$\sum_{i=1}^{25} x_i^2 = 810.846; \quad \sum_{i=1}^{25} x_i \cdot y_i = 1810.876$$

- (a) Schätzen Sie β_1 und β_2 mit Hilfe der Kleinst-Quadrate-Methode.
- (b) Geben Sie mit Hilfe der bekannten erwartungstreuen Schätzfunktion für σ^2 den realisierten Schätzwert für σ^2 an.
- (c) Berechnen Sie $\hat{\sigma}_{\hat{\beta}_1}^2$ und $\hat{\sigma}_{\hat{\beta}_2}^2$.
- (d) Überprüfen Sie zum Signifikanzniveau $\alpha = 0.05$, ob β_2 signifikant positiv ist. Fassen Sie das Ergebnis auch in einem Antwortsatz zusammen.
- (e) Geben Sie ein Prognoseintervall zur Vertrauenswahrscheinlichkeit $1 - \alpha = 0.95$ für $E(y_0)$ gegeben $x_0 = 7.5$ an.





Tabelle zur Standardnormalverteilung

$$F_{N(0,1)}(x) = \Phi(x) = \frac{1}{\sqrt{2\pi}} \int_{-\infty}^x e^{-\frac{1}{2}t^2} dt$$

$$\Phi(x) = 1 - \Phi(-x)$$

	0.00	0.01	0.02	0.03	0.04	0.05	0.06	0.07	0.08	0.09
0.0	0.5000	0.5040	0.5080	0.5120	0.5160	0.5199	0.5239	0.5279	0.5319	0.5359
0.1	0.5398	0.5438	0.5478	0.5517	0.5557	0.5596	0.5636	0.5675	0.5714	0.5753
0.2	0.5793	0.5832	0.5871	0.5910	0.5948	0.5987	0.6026	0.6064	0.6103	0.6141
0.3	0.6179	0.6217	0.6255	0.6293	0.6331	0.6368	0.6406	0.6443	0.6480	0.6517
0.4	0.6554	0.6591	0.6628	0.6664	0.6700	0.6736	0.6772	0.6808	0.6844	0.6879
0.5	0.6915	0.6950	0.6985	0.7019	0.7054	0.7088	0.7123	0.7157	0.7190	0.7224
0.6	0.7257	0.7291	0.7324	0.7357	0.7389	0.7422	0.7454	0.7486	0.7517	0.7549
0.7	0.7580	0.7611	0.7642	0.7673	0.7704	0.7734	0.7764	0.7794	0.7823	0.7852
0.8	0.7881	0.7910	0.7939	0.7967	0.7995	0.8023	0.8051	0.8078	0.8106	0.8133
0.9	0.8159	0.8186	0.8212	0.8238	0.8264	0.8289	0.8315	0.8340	0.8365	0.8389
1.0	0.8413	0.8438	0.8461	0.8485	0.8508	0.8531	0.8554	0.8577	0.8599	0.8621
1.1	0.8643	0.8665	0.8686	0.8708	0.8729	0.8749	0.8770	0.8790	0.8810	0.8830
1.2	0.8849	0.8869	0.8888	0.8907	0.8925	0.8944	0.8962	0.8980	0.8997	0.9015
1.3	0.9032	0.9049	0.9066	0.9082	0.9099	0.9115	0.9131	0.9147	0.9162	0.9177
1.4	0.9192	0.9207	0.9222	0.9236	0.9251	0.9265	0.9279	0.9292	0.9306	0.9319
1.5	0.9332	0.9345	0.9357	0.9370	0.9382	0.9394	0.9406	0.9418	0.9429	0.9441
1.6	0.9452	0.9463	0.9474	0.9484	0.9495	0.9505	0.9515	0.9525	0.9535	0.9545
1.7	0.9554	0.9564	0.9573	0.9582	0.9591	0.9599	0.9608	0.9616	0.9625	0.9633
1.8	0.9641	0.9649	0.9656	0.9664	0.9671	0.9678	0.9686	0.9693	0.9699	0.9706
1.9	0.9713	0.9719	0.9726	0.9732	0.9738	0.9744	0.9750	0.9756	0.9761	0.9767
2.0	0.9772	0.9778	0.9783	0.9788	0.9793	0.9798	0.9803	0.9808	0.9812	0.9817
2.1	0.9821	0.9826	0.9830	0.9834	0.9838	0.9842	0.9846	0.9850	0.9854	0.9857
2.2	0.9861	0.9864	0.9868	0.9871	0.9875	0.9878	0.9881	0.9884	0.9887	0.9890
2.3	0.9893	0.9896	0.9898	0.9901	0.9904	0.9906	0.9909	0.9911	0.9913	0.9916
2.4	0.9918	0.9920	0.9922	0.9925	0.9927	0.9929	0.9931	0.9932	0.9934	0.9936
2.5	0.9938	0.9940	0.9941	0.9943	0.9945	0.9946	0.9948	0.9949	0.9951	0.9952
2.6	0.9953	0.9955	0.9956	0.9957	0.9959	0.9960	0.9961	0.9962	0.9963	0.9964
2.7	0.9965	0.9966	0.9967	0.9968	0.9969	0.9970	0.9971	0.9972	0.9973	0.9974
2.8	0.9974	0.9975	0.9976	0.9977	0.9977	0.9978	0.9979	0.9979	0.9980	0.9981
2.9	0.9981	0.9982	0.9982	0.9983	0.9984	0.9984	0.9985	0.9985	0.9986	0.9986
3.0	0.9987	0.9987	0.9987	0.9988	0.9988	0.9989	0.9989	0.9989	0.9990	0.9990
3.1	0.9990	0.9991	0.9991	0.9991	0.9992	0.9992	0.9992	0.9992	0.9993	0.9993
3.2	0.9993	0.9993	0.9994	0.9994	0.9994	0.9994	0.9994	0.9995	0.9995	0.9995
3.3	0.9995	0.9995	0.9995	0.9996	0.9996	0.9996	0.9996	0.9996	0.9996	0.9997
3.4	0.9997	0.9997	0.9997	0.9997	0.9997	0.9997	0.9997	0.9997	0.9997	0.9998

p-Quantile der Standardnormalverteilung

$$F_{N(0,1)}(N_p) = p$$

<i>p</i>	0.85	0.90	0.95	0.975	0.99	0.995	0.9995
<i>N_p</i>	1.036	1.282	1.645	1.960	2.326	2.576	3.291

p -Quantile der $t(n)$ -Verteilungen $t_{n;p}$

$$T \sim t(n) \quad \Rightarrow \quad F_T(t_{n;p}) = p$$

$n \backslash p$	0.85	0.90	0.95	0.975	0.99	0.995	0.9995
1	1.963	3.078	6.314	12.706	31.821	63.657	636.619
2	1.386	1.886	2.920	4.303	6.965	9.925	31.599
3	1.250	1.638	2.353	3.182	4.541	5.841	12.924
4	1.190	1.533	2.132	2.776	3.747	4.604	8.610
5	1.156	1.476	2.015	2.571	3.365	4.032	6.869
6	1.134	1.440	1.943	2.447	3.143	3.707	5.959
7	1.119	1.415	1.895	2.365	2.998	3.499	5.408
8	1.108	1.397	1.860	2.306	2.896	3.355	5.041
9	1.100	1.383	1.833	2.262	2.821	3.250	4.781
10	1.093	1.372	1.812	2.228	2.764	3.169	4.587
11	1.088	1.363	1.796	2.201	2.718	3.106	4.437
12	1.083	1.356	1.782	2.179	2.681	3.055	4.318
13	1.079	1.350	1.771	2.160	2.650	3.012	4.221
14	1.076	1.345	1.761	2.145	2.624	2.977	4.140
15	1.074	1.341	1.753	2.131	2.602	2.947	4.073
16	1.071	1.337	1.746	2.120	2.583	2.921	4.015
17	1.069	1.333	1.740	2.110	2.567	2.898	3.965
18	1.067	1.330	1.734	2.101	2.552	2.878	3.922
19	1.066	1.328	1.729	2.093	2.539	2.861	3.883
20	1.064	1.325	1.725	2.086	2.528	2.845	3.850
21	1.063	1.323	1.721	2.080	2.518	2.831	3.819
22	1.061	1.321	1.717	2.074	2.508	2.819	3.792
23	1.060	1.319	1.714	2.069	2.500	2.807	3.768
24	1.059	1.318	1.711	2.064	2.492	2.797	3.745
25	1.058	1.316	1.708	2.060	2.485	2.787	3.725
26	1.058	1.315	1.706	2.056	2.479	2.779	3.707
27	1.057	1.314	1.703	2.052	2.473	2.771	3.690
28	1.056	1.313	1.701	2.048	2.467	2.763	3.674
29	1.055	1.311	1.699	2.045	2.462	2.756	3.659
30	1.055	1.310	1.697	2.042	2.457	2.750	3.646
31	1.054	1.309	1.696	2.040	2.453	2.744	3.633
32	1.054	1.309	1.694	2.037	2.449	2.738	3.622
33	1.053	1.308	1.692	2.035	2.445	2.733	3.611
34	1.052	1.307	1.691	2.032	2.441	2.728	3.601
35	1.052	1.306	1.690	2.030	2.438	2.724	3.591
40	1.050	1.303	1.684	2.021	2.423	2.704	3.551
60	1.045	1.296	1.671	2.000	2.390	2.660	3.460
80	1.043	1.292	1.664	1.990	2.374	2.639	3.416
100	1.042	1.290	1.660	1.984	2.364	2.626	3.390
120	1.041	1.289	1.658	1.980	2.358	2.617	3.373
140	1.040	1.288	1.656	1.977	2.353	2.611	3.361
160	1.040	1.287	1.654	1.975	2.350	2.607	3.352
180	1.039	1.286	1.653	1.973	2.347	2.603	3.345
200	1.039	1.286	1.653	1.972	2.345	2.601	3.340
250	1.039	1.285	1.651	1.969	2.341	2.596	3.330