

**WIRTSCHAFTSWISSENSCHAFTLICHES  
PRÜFUNGSSEKRETARIAT**

FAKULTÄT FÜR EMPIRISCHE HUMANWISSENSCHAFTEN UND WIRTSCHAFTSWISSENSCHAFT  
DER UNIVERSITÄT DES SAARLANDES

**Von der/dem Studierenden auszufüllen** (Bitte leserlich und in Blockschrift):

**Name der Prüfung:** Schließende Statistik  
**Semester, dem die Prüfung zugeordnet ist:** SS 2023 (z. B. WS 2019/2020, SS 2020)  
(Prüfungen im Februar/April = WS; Prüfungen im August/Oktober = SS)  
**Nachname, Vorname der/des Studierenden:** \_\_\_\_\_  
**Matrikelnummer der/des Studierenden:** \_\_\_\_\_

**Erklärung**

Hiermit erkläre ich, dass mir die für diese Prüfung relevanten Zulassungsvoraussetzungen aus der für mich geltenden Prüfungsordnung bekannt sind.

Mir ist damit bewusst, dass diese Prüfungsleistung als nicht abgelegt zählt, wenn die hierfür vorgesehenen Zulassungsvoraussetzungen nicht erfüllt sind.

Mir ist bekannt, dass die Teilnahme an der Prüfung zudem die ordnungsgemäße Anmeldung zur Prüfung voraussetzt. Die Teilnahme bei versäumter Anmeldung hat die Ungültigkeit der Prüfung zur Folge.

Zudem ist mir bekannt, dass eine nicht bestandene Prüfung zweimal wiederholt werden kann. Die Wiederholung einer bestandenen Prüfung ist nicht zulässig.

**Datum:** \_\_\_\_\_ **Unterschrift der/des Studierenden:** \_\_\_\_\_

**Von der Prüferin/Vom Prüfer auszufüllen:**

Aufgabe	Punkte	Max. Punkte	Bemerkungen
1		18	
2		15	
3		12	
4		16	
5		7	
6		10	
7		13	
8		6	
9		23	
<i>Summe</i>		120	

*bestanden* Note: \_\_\_\_\_

*nicht bestanden* Unterschrift der Prüferin/des Prüfers: \_\_\_\_\_

KLAUSURHEFT ZUR  
 BACHELOR-PRÜFUNG  
 SCHLIESSENDE STATISTIK  
 SOMMERSEMESTER 2023

apl. Prof. Dr. Martin Becker

Hinweise für die Klausurteilnehmer

- Die Klausur besteht aus insgesamt 9 Aufgaben. Prüfen Sie die Vollständigkeit Ihres Exemplares nach; spätere Reklamationen können nicht berücksichtigt werden.
- Es sind insgesamt 120 Punkte (= 18 + 15 + 12 + 16 + 7 + 10 + 13 + 6 + 23) erreichbar.
- Als Hilfsmittel sind zugelassen: Taschenrechner (auch mit Grafikfähigkeit), 2 selbsterstellte DIN-A4 Blätter bzw. 4 selbsterstellte (einseitige) DIN-A4 Seiten. Benötigte Tabellen zur Normal- und  $t$ -Verteilung finden Sie am Ende dieses Klausurheftes.
- Bei der Korrektur werden **nur** die Lösungen auf den Seiten 1–26 berücksichtigt. Das letzte Blatt (Tabellen zur Normal- und  $t$ -Verteilung) darf abgetrennt werden.
- Bei mehreren Lösungsvorschlägen muss die gültige Lösung eindeutig gekennzeichnet sein.
- Mit Ausnahme der Multiple-Choice-Aufgaben muss der Lösungsweg klar ersichtlich sein.
- Alle Punkte innerhalb von Zahlen sind stets Dezimalpunkte (und keine Tausenderpunkte).

<b>Bewertungsteil — Bitte nicht beschreiben</b>							
Aufgabe	(a)	(b)	(c)	(d)	(e)	(f)	$\Sigma$
1		■	■	■	■	■	
2		■	■	■	■	■	
3				■	■	■	
4					■	■	
5		■	■	■	■	■	
6		■	■	■	■	■	
7		■	■	■	■	■	
8							
9							
$\Sigma$							

**Aufgabe 1** (18 Punkte)

Markieren Sie jeweils mit einem Kreuz pro Aussage im betreffenden Kästchen, ob die unten stehenden Aussagen wahr oder falsch sind.

Richtige Antworten geben 2 Punkte, falsche Antworten und nicht bearbeitete Aussagen 0 Punkte (Aussagen mit zwei Kreuzen zählen als nicht bearbeitet!).

- |  | wahr                     | falsch                   |
|--|--------------------------|--------------------------|
| 1. Sei $X_1, X_2, \dots, X_n$ eine einfache Stichprobe vom Umfang $n$ zu einer normalverteilten Zufallsvariablen $Y$ . Dann gilt stets   | <input type="checkbox"/> | <input type="checkbox"/> |
| $\text{Var}(X_1) = \text{Var}(X_2) = \dots = \text{Var}(X_n) = \text{Var}(Y)$ .  |                          |                          |
| 2. Ist eine Folge von Schätzfunktionen $T_n, n \in \mathbb{N}$ , asymptotisch erwartungstreu für einen Parameter $\lambda$ , so gilt $E(T_n) = \lambda$ für alle $n \in \mathbb{N}$ .  | <input type="checkbox"/> | <input type="checkbox"/> |
| 3. Gilt für eine Folge von Schätzfunktionen $T_n, n \in \mathbb{N}$ , sowohl $\lim_{n \rightarrow \infty} E(T_n) = \lambda$ als auch $\lim_{n \rightarrow \infty} \text{Var}(T_n) = 0$ , so ist die Folge $T_n$ von Schätzfunktion effizient für $\lambda$ .                 | <input type="checkbox"/> | <input type="checkbox"/> |
| 4. Lehnt ein Chi-Quadrat-Anpassungstest die Nullhypothese zum Signifikanzniveau $\alpha = 0.05$ ab, so wird die Nullhypothese (auf Basis derselben Stichprobenrealisation) stets auch bei einem entsprechenden Test zum Signifikanzniveau $\tilde{\alpha} = 0.01$ verworfen. | <input type="checkbox"/> | <input type="checkbox"/> |
| 5. Die aus der Vorlesung bekannten statistischen Tests sind typischerweise so konstruiert, dass die Teststatistik bei Verletzung der Nullhypothese mit einer größeren Wahrscheinlichkeit im kritischen Bereich liegt als bei Gültigkeit der Nullhypothese.                   | <input type="checkbox"/> | <input type="checkbox"/> |
| 6. Wird die Nullhypothese bei einem zweiseitigen Gauß-Test abgelehnt, so handelt es sich hierbei entweder um eine richtige Entscheidung oder um einen Fehler 1. Art.   | <input type="checkbox"/> | <input type="checkbox"/> |
| 7. Sind die Voraussetzungen für die exakte Anwendung eines <i>zweiseitigen</i> 2-Stichproben- <i>t</i> -Tests für den Vergleich zweier Erwartungswerte erfüllt, so stimmen die Verteilungen von $Y^A$ und $Y^B$ bei Gültigkeit von $H_0$ vollständig überein.                | <input type="checkbox"/> | <input type="checkbox"/> |
| 8. Mit der einfachen Varianzanalyse kann untersucht werden, welche Ausprägung eines Faktors (Faktorstufe) zum niedrigsten Erwartungswert führt.  | <input type="checkbox"/> | <input type="checkbox"/> |
| 9. Im einfachen linearen Regressionsmodell   | <input type="checkbox"/> | <input type="checkbox"/> |

$$y_i = \beta_1 + \beta_2 \cdot x_i + u_i, \quad u_i \stackrel{\text{iid}}{\sim} N(0, \sigma^2)$$

sind (bei festem  $x_0$ ) Prognoseintervalle für  $E(y_0)$  gegeben  $x_0$  zur Vertrauenswahrscheinlichkeit  $1 - \alpha$  stets (echte) Teilmengen der analogen Prognoseintervalle für  $y_0$  gegeben  $x_0$ .

**Aufgabe 2** (15 Punkte)

Markieren Sie jeweils die korrekte Antwort mit einem Kreuz im betreffenden Kästchen. Es ist jeweils genau ein Kreuz korrekt.

Richtige Antworten geben 3 Punkte, falsche Antworten und nicht bearbeitete Aufgabenteile 0 Punkte (Aufgabenteile mit mehr als einem Kreuz zählen als nicht bearbeitet!).

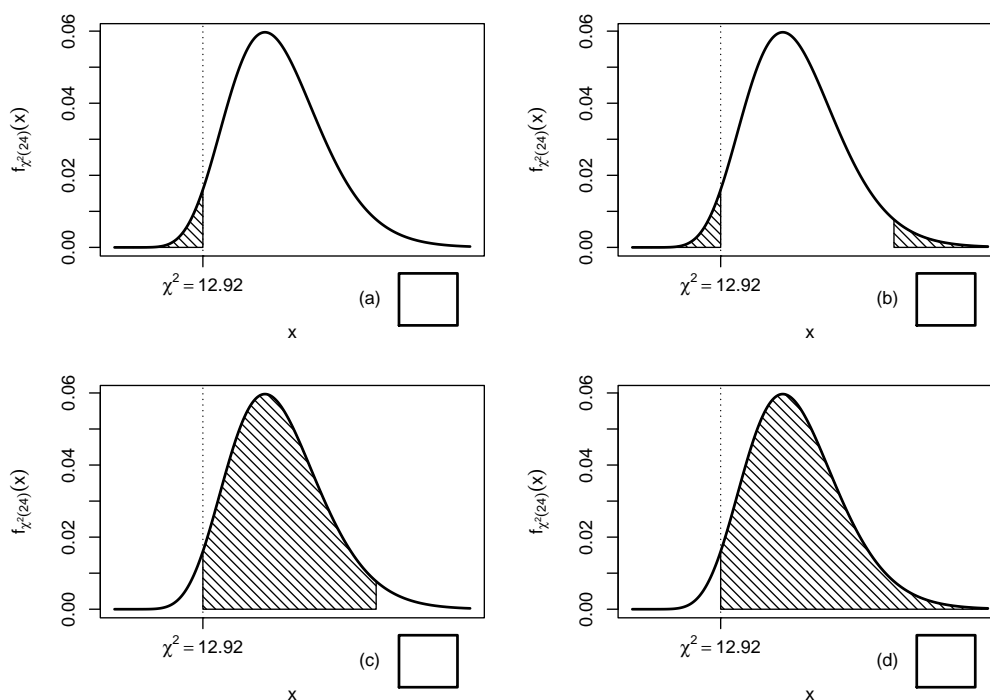
1. Bei der Durchführung einer einfachen Varianzanalyse wurden zu den 4 Faktorstufen jeweils einfache Stichproben mit den Stichprobenumfängen 20, 30, 40 beziehungsweise 50 erhoben. Damit besitzt die Teststatistik bei Gültigkeit der Nullhypothese (und sämtlicher Voraussetzungen zur exakten Anwendungsmöglichkeit des Tests) die folgende Verteilung:

- (a)  $F(3, 140)$    
 (b)  $F(3, 136)$    
 (c)  $F(4, 140)$    
 (d)  $F(4, 136)$

2. Sei  $X_1, \dots, X_{25}$  eine einfache Stichprobe zu einer  $N(\mu, \sigma^2)$ -verteilten Zufallsvariablen  $Y$  mit unbekanntem Parametern  $\mu$  und  $\sigma^2$ . Auf der Grundlage einer Stichprobenrealisation zu dieser einfachen Stichprobe vom Umfang  $n = 25$  soll

$$H_0 : \sigma^2 \geq \sigma_0^2 = 16 \quad \text{gegen} \quad H_1 : \sigma^2 < \sigma_0^2 = 16$$

mit einem Chi-Quadrat-Test getestet werden. Als realisierte Teststatistik erhält man  $\chi^2 = 12.92$ . Markieren Sie die Abbildung, welche den  $p$ -Wert in der beschriebenen Situation korrekt als Inhalt der schraffierten Fläche unter der Dichtefunktion der Verteilung der Teststatistik unter  $H_0$  (für  $\sigma^2 = \sigma_0^2$ ) darstellt.



3. Zur Schätzung des Parameters  $\theta > 0$  seien für (Stichprobenumfänge)  $n \geq 2$  Schätzfunktionen  $T_n$  mit den Eigenschaften  $E(T_n) = \frac{n}{n-1}\theta$  sowie  $\text{Var}(T_n) = \frac{2}{n}\sqrt{\theta}$  gegeben. Damit ist die Folge von Schätzfunktionen  $T_n$

- (a) weder erwartungstreu noch konsistent im quadratischen Mittel für  $\theta$ .
- (b) zwar erwartungstreu, aber nicht konsistent im quadratischen Mittel für  $\theta$ .
- (c) zwar konsistent im quadratischen Mittel, aber nicht erwartungstreu für  $\theta$ .
- (d) sowohl erwartungstreu als auch konsistent im quadratischen Mittel für  $\theta$ .

4. Bei der Durchführung eines zweiseitigen  $t$ -Tests zum Signifikanzniveau  $\alpha = 0.01$  kann die Nullhypothese  $\mu = \mu_0$  nicht abgelehnt werden, während ein rechtsseitiger  $t$ -Test zum Signifikanzniveau  $\alpha = 0.05$  auf Grundlage derselben Stichprobeninformation  $H_0 : \mu \leq \mu_0$  ablehnt. Damit gilt für den  $p$ -Wert des *zweiseitigen*  $t$ -Tests stets:

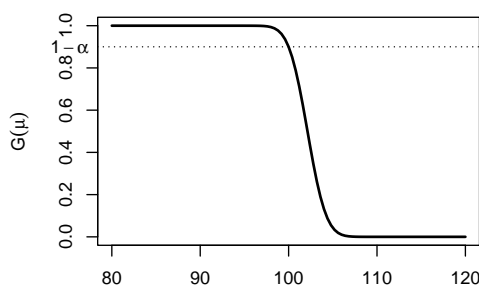
- (a)  $0.01 \leq p < 0.05$
- (b)  $0.05 \leq p < 0.10$
- (c)  $0.01 \leq p < 0.10$
- (d)  $p \geq 0.10$

5. Auf der Grundlage einer einfachen Stichprobe  $X_1, \dots, X_{36}$  vom Umfang  $n = 36$  zu einer  $N(\mu, 10^2)$ -verteilten Zufallsvariablen wird ein Gauß-Test zur Überprüfung der Hypothesen

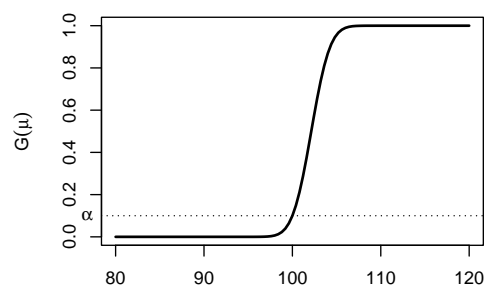
$$H_0 : \mu \geq 100 \quad \text{gegen} \quad H_1 : \mu < 100$$

bei einem Signifikanzniveau von  $\alpha = 0.1$  betrachtet.

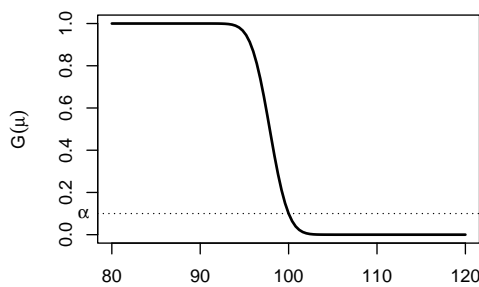
Markieren Sie die Abbildung, welche die Gütefunktion des oben genannten Tests korrekt darstellt.



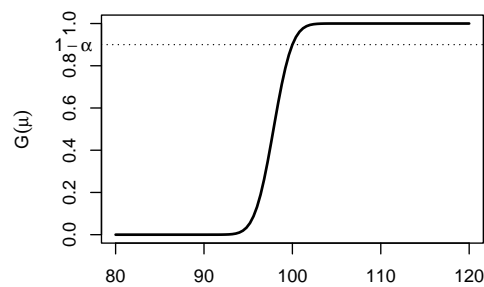
(a)



(b)



(c)



(d)

**Aufgabe 3** (6 + 4 + 2 = 12 Punkte)

Die Verteilung einer Zufallsvariablen  $Y$  sei in Abhängigkeit des unbekanntes Parameters  $\theta > 1$  durch die folgende Dichtefunktion gegeben:

$$f_Y(y|\theta) = \begin{cases} \frac{\theta \cdot 4^\theta}{y^{\theta+1}} & \text{für } y \geq 4 \\ 0 & \text{sonst} \end{cases}$$


Der Parameter  $\theta$  soll auf Grundlage einer einfachen Stichprobe  $X_1, \dots, X_n$  vom Umfang  $n$  geschätzt werden.

- (a) Bestimmen Sie den Schätzer  $\hat{\theta}_{ML}$  nach der Maximum-Likelihood-Methode.
- (b) Zeigen Sie, dass  $E(Y) = \frac{4\theta}{\theta - 1}$  gilt.
- (c) Bestimmen Sie den Schätzer  $\hat{\theta}_{MM}$  nach der Methode der Momente.

*Hinweise:*

- Beachten Sie, dass Sie Teil (b) auch ohne die Bearbeitung von Teil (a) und Teil (c) ohne die Bearbeitung der Teile (a) und (b) lösen können.
- Falls sich der ML-Schätzer als lokale Extremstelle einer differenzierbaren Funktion bestimmen lässt, muss **nicht** überprüft werden (z.B. mit Hilfe der 2. Ableitung), ob tatsächlich eine Maximalstelle vorliegt.










**Aufgabe 4** (7 + 2 + 4 + 3 = 16 Punkte)

Bei der Abfüllung von Limonadenflaschen weiß der Hersteller aus langjähriger Erfahrung, dass die verwendete Maschine eine Standardabweichung von  $6[ml]$  für die abgefüllte Menge hat. Nach einer routinemäßigen Überprüfung hat der Hersteller den Verdacht, dass die Abfüllanlage im Mittel eine andere Menge als die auf dem Produkt ausgezeichneten  $330[ml]$  in die Flaschen einfüllt. Dies soll mit einem statistischen Test überprüft werden. Hierzu werden der Produktion 16 Flaschen entnommen, deren gemessene Füllmengen  $x_1, \dots, x_{16}$  als Realisation einer einfachen Stichprobe vom Umfang 16 zur annahmegemäß  $N(\mu, 6^2[ml^2])$ -verteilten Abfüllmenge betrachtet werden können. Als Stichprobenmittelwert ergibt sich dabei

$$\bar{x} = \frac{1}{16} \sum_{i=1}^{16} x_i = 327.169[ml] .$$

- (a) Testen Sie zum Signifikanzniveau  $\alpha = 0.05$ , ob der Verdacht der Herstellerfirma bestätigt werden kann. Fassen Sie das Ergebnis des Tests in einem Antwortsatz zusammen.
- (b) Berechnen Sie den  $p$ -Wert zum Test aus Teil (a).
- (c) Wie groß ist die Wahrscheinlichkeit des Fehlers 2. Art zu dem Test aus Teil (a), falls  $\mu = 328[ml]$  beträgt?
- (d) Geben Sie auf Basis der Stichprobenrealisation ein zweiseitiges Konfidenzintervall für die mittlere Abfüllmenge zur Sicherheitswahrscheinlichkeit  $1 - \alpha = 0.95$  an.







**Aufgabe 5** (7 Punkte)

Zur Beurteilung der Präzision zweier Messgeräte  $A$  und  $B$  wird eine Referenzgröße jeweils unabhängig voneinander mit beiden Messgeräten wiederum jeweils unabhängig voneinander mehrfach gemessen. Es werde angenommen, dass die gemessenen Werte  $Y^A$  bzw.  $Y^B$  der beiden Messgeräte jeweils normalverteilt seien mit unbekanntem Erwartungswerten  $\mu_A$  bzw.  $\mu_B$  sowie unbekanntem Varianzen  $\sigma_A^2$  bzw.  $\sigma_B^2$ . Die Ergebnisse der wiederholten Messungen lassen sich als (voneinander unabhängige) einfache Stichproben  $X_1^A, \dots, X_{20}^A$  vom Umfang 20 zu  $Y^A$  sowie  $X_1^B, \dots, X_{18}^B$  vom Umfang 18 zu  $Y^B$  auffassen, aus den zugehörigen Realisationen wurden bereits die Mittelwerte  $\bar{x}^A = 500.014$  bzw.  $\bar{x}^B = 500.118$  sowie die Stichprobenvarianzen  $s_{Y^A}^2 = 0.507$  bzw.  $s_{Y^B}^2 = 1.468$  berechnet. Überprüfen Sie mit einem geeigneten Test zum Signifikanzniveau  $\alpha = 0.05$ , ob Messgerät  $A$  eine höhere Präzision (im Sinne einer geringeren Streuung) als Messgerät  $B$  hat. Fassen Sie das Ergebnis des Tests in einem Antwortsatz zusammen.

*Hinweis: Verwenden Sie den folgenden Tabellenausschnitt mit 0.95-Quantilen von  $F(m, n)$ -Verteilungen sowie ggf. die Rechenregel  $F_{m,n;p} = \frac{1}{F_{n,m;1-p}}$ .*

$n \backslash m$	11	12	13	14	15	16	17	18	19	20
11	2.818	2.788	2.761	2.739	2.719	2.701	2.685	2.671	2.658	2.646
12	2.717	2.687	2.660	2.637	2.617	2.599	2.583	2.568	2.555	2.544
13	2.635	2.604	2.577	2.554	2.533	2.515	2.499	2.484	2.471	2.459
14	2.565	2.534	2.507	2.484	2.463	2.445	2.428	2.413	2.400	2.388
15	2.507	2.475	2.448	2.424	2.403	2.385	2.368	2.353	2.340	2.328
16	2.456	2.425	2.397	2.373	2.352	2.333	2.317	2.302	2.288	2.276
17	2.413	2.381	2.353	2.329	2.308	2.289	2.272	2.257	2.243	2.230
18	2.374	2.342	2.314	2.290	2.269	2.250	2.233	2.217	2.203	2.191
19	2.340	2.308	2.280	2.256	2.234	2.215	2.198	2.182	2.168	2.155
20	2.310	2.278	2.250	2.225	2.203	2.184	2.167	2.151	2.137	2.124





**Aufgabe 6** (10 Punkte)

Zwei unterschiedlichen Gruppen mit 57 (Gruppe  $A$ ) bzw. 65 (Gruppe  $B$ ) Allergiepatientinnen wird jeweils ein spezielles Antihistaminikum verabreicht. Nach einer festgelegten Zeit werden dann alle Allergiepatientinnen gefragt, ob durch das verabreichte Medikament eine Linderung der Beschwerden eingetreten ist. In der Gruppe der Allergiepatientinnen, denen Antihistaminikum  $A$  verabreicht wurde, beantworteten 46 Personen diese Frage positiv, in der zu Antihistaminikum  $B$  gehörigen Gruppe 60 Personen. Überprüfen Sie unter der Annahme, dass es sich bei dem Stichprobenergebnis um die Realisation zweier unabhängiger einfacher Stichproben handelt, zum Signifikanzniveau  $\alpha = 0.05$ , ob Antihistaminikum  $B$  besser wirkt als Antihistaminikum  $A$  (bezogen auf die Erfolgswahrscheinlichkeit für eine Linderung der Beschwerden). Formulieren Sie das Ergebnis auch in Form eines Antwortsatzes.





**Aufgabe 7** (13 Punkte)

Um zu überprüfen, ob es einen Zusammenhang zwischen der Fachsemesteranzahl und dem Abschneiden in der Klausur (bestanden/nicht bestanden) gibt, hat der Dozent einer Statistik-Veranstaltung aus den Korrekturergebnissen der zugehörigen Klausuren aller 368 Teilnehmer die folgende Tabelle zusammengestellt:

	$\leq 2$ Fachsemester	$\geq 3$ Fachsemester
bestanden	203	61
nicht bestanden	74	30


Überprüfen Sie anhand dieses Datenmaterials zum Signifikanzniveau  $\alpha = 0.05$ , ob Fachsemesteranzahl und Klausurergebnis stochastisch unabhängig sind.

*Hinweis: Verwenden Sie den folgenden Tabellenausschnitt mit  $p$ -Quantilen von  $\chi^2(n)$ -Verteilungen:*

$n \backslash p$	0.01	0.025	0.05	0.50	0.90	0.95	0.975	0.99
1	0.000	0.001	0.004	0.455	2.706	3.841	5.024	6.635
2	0.020	0.051	0.103	1.386	4.605	5.991	7.378	9.210
3	0.115	0.216	0.352	2.366	6.251	7.815	9.348	11.345
4	0.297	0.484	0.711	3.357	7.779	9.488	11.143	13.277
5	0.554	0.831	1.145	4.351	9.236	11.070	12.833	15.086









**Aufgabe 8** (1 + 1 + 1 + 1 + 1 + 1 = 6 Punkte)

Zur Erklärung des Blutdrucks  $y_i$  durch das Verhältnis von tatsächlichem Gewicht zum Idealgewicht  $x_i$  unterstellt man die Gültigkeit eines Zusammenhangs im Sinne des folgenden linearen Modells:

$$y_i = \beta_1 + \beta_2 x_i + u_i \quad \text{mit} \quad u_i \stackrel{\text{iid}}{\sim} N(0, \sigma^2), \quad i \in \{1, \dots, n\}$$

Aus den Daten einer US-amerikanischen Studie mit ausschließlich weiblichen Probanden wurde das lineare Modell mit der Statistik-Software R wie folgt geschätzt:

Call:

```
lm(formula = y ~ x)
```

Residuals:

Min	1Q	Median	3Q	Max
-21.789	-12.474	-3.155	5.223	69.474

Coefficients:

	Estimate	Std. Error	t value	Pr(> t )
(Intercept)	70.99	22.11	3.210	0.00351 **
x	39.04	15.24	2.561	0.01659 *

---

Signif. codes: 0 '\*\*\*' 0.001 '\*\*' 0.01 '\*' 0.05 '.' 0.1 ' ' 1

Residual standard error: 19.25 on 26 degrees of freedom

Multiple R-squared: 0.2015, Adjusted R-squared: 0.1707

F-statistic: 6.559 on 1 and 26 DF, p-value: 0.01659

- Wie viele weibliche Testpersonen gingen in die Schätzung ein?
- Geben Sie die realisierten Kleinst-Quadrate-Schätzwerte für  $\beta_1$  und  $\beta_2$  an.
- Geben Sie den realisierten Schätzwert für  $\sigma^2$  an.
- Entscheiden Sie mit Hilfe des zugehörigen  $p$ -Werts zum Signifikanzniveau  $\alpha = 0.05$ , ob  $\beta_1$  signifikant von Null verschieden ist.
- Entscheiden Sie mit Hilfe des zugehörigen  $p$ -Werts zum Signifikanzniveau  $\alpha = 0.01$ , ob  $\beta_2$  signifikant positiv ist.
- Welchen Blutdruck prognostiziert das Modell für eine weibliche Person mit einem Verhältnis zwischen tatsächlichem Gewicht und Idealgewicht von 1.2?



**Aufgabe 9** (6 + 2 + 2 + 3 + 5 + 5 = 23 Punkte)


Zur Schätzung eines einfachen linearen Regressionsmodells

$$y_i = \beta_1 + \beta_2 \cdot x_i + u_i \quad \text{mit} \quad u_i \stackrel{\text{iid}}{\sim} N(0, \sigma^2), \quad i \in \{1, \dots, n\}$$

aus einer Stichprobe vom Umfang  $n = 25$  wurden bereits die folgenden Zwischenwerte errechnet:


$$\begin{aligned} \sum_{i=1}^{25} y_i &= 120.875; & \sum_{i=1}^{25} y_i^2 &= 681.609; & \sum_{i=1}^{25} x_i &= 158.932; \\ \sum_{i=1}^{25} x_i^2 &= 1059.227; & \sum_{i=1}^{25} x_i \cdot y_i &= 735.613 \end{aligned}$$

- (a) Schätzen Sie  $\beta_1$  und  $\beta_2$  mit Hilfe der Kleinst-Quadrate-Methode.
- (b) Berechnen Sie das Bestimmtheitsmaß  $R^2$ .
- (c) Geben Sie mit Hilfe der bekannten erwartungstreuen Schätzfunktion für  $\sigma^2$  den realisierten Schätzwert für  $\sigma^2$  an.
- (d) Berechnen Sie  $\hat{\sigma}_{\hat{\beta}_1}^2$  und  $\hat{\sigma}_{\hat{\beta}_2}^2$ .
- (e) Überprüfen Sie zum Signifikanzniveau  $\alpha = 0.05$ , ob  $\beta_2$  sich signifikant von Null unterscheidet. Fassen Sie das Ergebnis auch in einem Antwortsatz zusammen.
- (f) Geben Sie ein Prognoseintervall zur Vertrauenswahrscheinlichkeit  $1 - \alpha = 0.90$  für  $y_0$  gegeben  $x_0 = 7$  an.














### Tabelle zur Standardnormalverteilung

$$F_{N(0,1)}(x) = \Phi(x) = \frac{1}{\sqrt{2\pi}} \int_{-\infty}^x e^{-\frac{1}{2}t^2} dt$$

$$\Phi(x) = 1 - \Phi(-x)$$

	0.00	0.01	0.02	0.03	0.04	0.05	0.06	0.07	0.08	0.09
0.0	0.5000	0.5040	0.5080	0.5120	0.5160	0.5199	0.5239	0.5279	0.5319	0.5359
0.1	0.5398	0.5438	0.5478	0.5517	0.5557	0.5596	0.5636	0.5675	0.5714	0.5753
0.2	0.5793	0.5832	0.5871	0.5910	0.5948	0.5987	0.6026	0.6064	0.6103	0.6141
0.3	0.6179	0.6217	0.6255	0.6293	0.6331	0.6368	0.6406	0.6443	0.6480	0.6517
0.4	0.6554	0.6591	0.6628	0.6664	0.6700	0.6736	0.6772	0.6808	0.6844	0.6879
0.5	0.6915	0.6950	0.6985	0.7019	0.7054	0.7088	0.7123	0.7157	0.7190	0.7224
0.6	0.7257	0.7291	0.7324	0.7357	0.7389	0.7422	0.7454	0.7486	0.7517	0.7549
0.7	0.7580	0.7611	0.7642	0.7673	0.7704	0.7734	0.7764	0.7794	0.7823	0.7852
0.8	0.7881	0.7910	0.7939	0.7967	0.7995	0.8023	0.8051	0.8078	0.8106	0.8133
0.9	0.8159	0.8186	0.8212	0.8238	0.8264	0.8289	0.8315	0.8340	0.8365	0.8389
1.0	0.8413	0.8438	0.8461	0.8485	0.8508	0.8531	0.8554	0.8577	0.8599	0.8621
1.1	0.8643	0.8665	0.8686	0.8708	0.8729	0.8749	0.8770	0.8790	0.8810	0.8830
1.2	0.8849	0.8869	0.8888	0.8907	0.8925	0.8944	0.8962	0.8980	0.8997	0.9015
1.3	0.9032	0.9049	0.9066	0.9082	0.9099	0.9115	0.9131	0.9147	0.9162	0.9177
1.4	0.9192	0.9207	0.9222	0.9236	0.9251	0.9265	0.9279	0.9292	0.9306	0.9319
1.5	0.9332	0.9345	0.9357	0.9370	0.9382	0.9394	0.9406	0.9418	0.9429	0.9441
1.6	0.9452	0.9463	0.9474	0.9484	0.9495	0.9505	0.9515	0.9525	0.9535	0.9545
1.7	0.9554	0.9564	0.9573	0.9582	0.9591	0.9599	0.9608	0.9616	0.9625	0.9633
1.8	0.9641	0.9649	0.9656	0.9664	0.9671	0.9678	0.9686	0.9693	0.9699	0.9706
1.9	0.9713	0.9719	0.9726	0.9732	0.9738	0.9744	0.9750	0.9756	0.9761	0.9767
2.0	0.9772	0.9778	0.9783	0.9788	0.9793	0.9798	0.9803	0.9808	0.9812	0.9817
2.1	0.9821	0.9826	0.9830	0.9834	0.9838	0.9842	0.9846	0.9850	0.9854	0.9857
2.2	0.9861	0.9864	0.9868	0.9871	0.9875	0.9878	0.9881	0.9884	0.9887	0.9890
2.3	0.9893	0.9896	0.9898	0.9901	0.9904	0.9906	0.9909	0.9911	0.9913	0.9916
2.4	0.9918	0.9920	0.9922	0.9925	0.9927	0.9929	0.9931	0.9932	0.9934	0.9936
2.5	0.9938	0.9940	0.9941	0.9943	0.9945	0.9946	0.9948	0.9949	0.9951	0.9952
2.6	0.9953	0.9955	0.9956	0.9957	0.9959	0.9960	0.9961	0.9962	0.9963	0.9964
2.7	0.9965	0.9966	0.9967	0.9968	0.9969	0.9970	0.9971	0.9972	0.9973	0.9974
2.8	0.9974	0.9975	0.9976	0.9977	0.9977	0.9978	0.9979	0.9979	0.9980	0.9981
2.9	0.9981	0.9982	0.9982	0.9983	0.9984	0.9984	0.9985	0.9985	0.9986	0.9986
3.0	0.9987	0.9987	0.9987	0.9988	0.9988	0.9989	0.9989	0.9989	0.9990	0.9990
3.1	0.9990	0.9991	0.9991	0.9991	0.9992	0.9992	0.9992	0.9992	0.9993	0.9993
3.2	0.9993	0.9993	0.9994	0.9994	0.9994	0.9994	0.9994	0.9995	0.9995	0.9995
3.3	0.9995	0.9995	0.9995	0.9996	0.9996	0.9996	0.9996	0.9996	0.9996	0.9997
3.4	0.9997	0.9997	0.9997	0.9997	0.9997	0.9997	0.9997	0.9997	0.9997	0.9998

### *p*-Quantile der Standardnormalverteilung

$$F_{N(0,1)}(N_p) = p$$

<i>p</i>	0.85	0.90	0.95	0.975	0.99	0.995	0.9995
<i>N<sub>p</sub></i>	1.036	1.282	1.645	1.960	2.326	2.576	3.291

**$p$ -Quantile der  $t(n)$ -Verteilungen  $t_{n;p}$**

$$T \sim t(n) \quad \Rightarrow \quad F_T(t_{n;p}) = p$$

$n \setminus p$	0.85	0.90	0.95	0.975	0.99	0.995	0.9995
1	1.963	3.078	6.314	12.706	31.821	63.657	636.619
2	1.386	1.886	2.920	4.303	6.965	9.925	31.599
3	1.250	1.638	2.353	3.182	4.541	5.841	12.924
4	1.190	1.533	2.132	2.776	3.747	4.604	8.610
5	1.156	1.476	2.015	2.571	3.365	4.032	6.869
6	1.134	1.440	1.943	2.447	3.143	3.707	5.959
7	1.119	1.415	1.895	2.365	2.998	3.499	5.408
8	1.108	1.397	1.860	2.306	2.896	3.355	5.041
9	1.100	1.383	1.833	2.262	2.821	3.250	4.781
10	1.093	1.372	1.812	2.228	2.764	3.169	4.587
11	1.088	1.363	1.796	2.201	2.718	3.106	4.437
12	1.083	1.356	1.782	2.179	2.681	3.055	4.318
13	1.079	1.350	1.771	2.160	2.650	3.012	4.221
14	1.076	1.345	1.761	2.145	2.624	2.977	4.140
15	1.074	1.341	1.753	2.131	2.602	2.947	4.073
16	1.071	1.337	1.746	2.120	2.583	2.921	4.015
17	1.069	1.333	1.740	2.110	2.567	2.898	3.965
18	1.067	1.330	1.734	2.101	2.552	2.878	3.922
19	1.066	1.328	1.729	2.093	2.539	2.861	3.883
20	1.064	1.325	1.725	2.086	2.528	2.845	3.850
21	1.063	1.323	1.721	2.080	2.518	2.831	3.819
22	1.061	1.321	1.717	2.074	2.508	2.819	3.792
23	1.060	1.319	1.714	2.069	2.500	2.807	3.768
24	1.059	1.318	1.711	2.064	2.492	2.797	3.745
25	1.058	1.316	1.708	2.060	2.485	2.787	3.725
26	1.058	1.315	1.706	2.056	2.479	2.779	3.707
27	1.057	1.314	1.703	2.052	2.473	2.771	3.690
28	1.056	1.313	1.701	2.048	2.467	2.763	3.674
29	1.055	1.311	1.699	2.045	2.462	2.756	3.659
30	1.055	1.310	1.697	2.042	2.457	2.750	3.646
31	1.054	1.309	1.696	2.040	2.453	2.744	3.633
32	1.054	1.309	1.694	2.037	2.449	2.738	3.622
33	1.053	1.308	1.692	2.035	2.445	2.733	3.611
34	1.052	1.307	1.691	2.032	2.441	2.728	3.601
35	1.052	1.306	1.690	2.030	2.438	2.724	3.591
40	1.050	1.303	1.684	2.021	2.423	2.704	3.551
60	1.045	1.296	1.671	2.000	2.390	2.660	3.460
80	1.043	1.292	1.664	1.990	2.374	2.639	3.416
100	1.042	1.290	1.660	1.984	2.364	2.626	3.390
120	1.041	1.289	1.658	1.980	2.358	2.617	3.373
140	1.040	1.288	1.656	1.977	2.353	2.611	3.361
160	1.040	1.287	1.654	1.975	2.350	2.607	3.352
180	1.039	1.286	1.653	1.973	2.347	2.603	3.345
200	1.039	1.286	1.653	1.972	2.345	2.601	3.340
250	1.039	1.285	1.651	1.969	2.341	2.596	3.330